

ANNEXOS

PoI BERENGUER i TORT

4t curs. Treball de Final de Grau

Professora: Isabel Sellas Ayats

Grau en Mestre d'Educació Primària

Facultat d'Educació, Traducció i Ciències Humanes


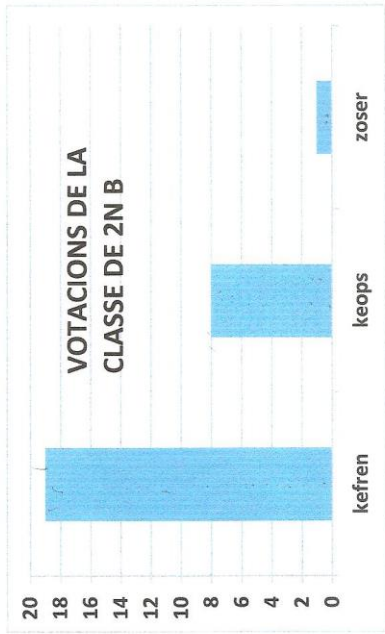
(Universitat de Vic - Universitat Central de Catalunya)

Vic, maig de 2017

ÍNDEX

Exemple del treball d'un grup de l'activitat 1	3-10
Exemple del treball d'un grup de l'activitat 2	11-14


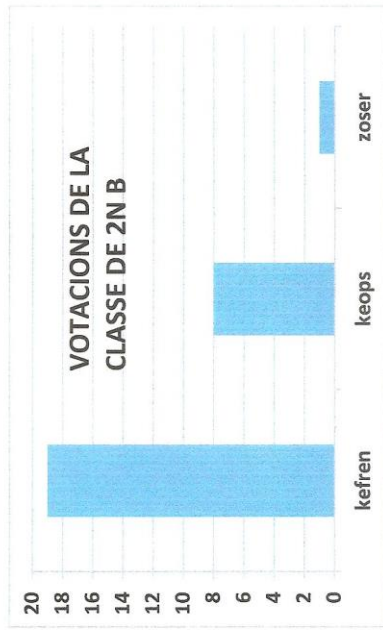
Com que els alumnes de 2n B de l'escola Dr. Joaquim Salarich van fer unes votacions, en Pol va aprofitar per fer també una votació amb els alumnes de la universitat on haguessin de dir si trobaven més interessant el faràs Zoser, en Kefren o en Keops. Mineu aquestes gràfiques i responeu les preguntes.



- Quin és el faró més votat a la classe de 2n B? ... En Kefren ✓ Quants vots té? ... te 18 vots ✓
- Quin és el faró més votat a la universitat de Vic? ... En Zoser ✓ Quants vots té? ... te 18 vots ✓
- Quants alumnes de 2n B han fet les votacions? ... 28 alumnes ✓
- Quants alumnes de la universitat han fet les votacions? ... 29 alumnes ✓
- Quines diferències veus en les votacions de la universitat i de 2n B? ... Que els de més de 2n B te més votacions amb en Kefren ✓
- Què faries per fer una votació a la teva classe per escollir un delegat? ... Per que s'escollís el delegat. nsalacion i votar a el que guanyi es el delegat. ✓

Quin és el farat més votat a la classe de 2n B? *En Kexen* Quants vots té? *te 19 vots*
 Quin és el farat més votat a la universitat de Vic? *En F. exen* Quants vots té? *te 18 vots*
 Quants alumnes de 2n B han fet les votacions? *28 alumnes*
 Quants alumnes de la universitat han fet les votacions? *29 alumnes*
 Quines diferències veus en les votacions de la universitat i de 2n B? *Que els men de 2n B
 tamem més votacions amb en Kexen*
 Què faries per fer una votació a la teva classe per escollir un delegat? *Per fer teves de fer
 votacions i votar i el que guanyo el delegat*
 Quin és el farat més votat de la classe de 2n B? *En Kexen* Quants vots té? *te 19 vots*
 Quin és el farat més votat a la universitat de Vic? *En F. exen* Quants vots té? *te 18 vots*
 Quants alumnes de 2n B han fet les votacions? *28 alumnes*
 Quants alumnes de la universitat han fet les votacions? *29 alumnes*
 Quines diferències veus en les votacions de la universitat i de 2n B? *En Fexen te mes votacions
 quem F. exen*
 Què faries per fer una votació a la teva classe per escollir un delegat? *que gem ama exen
 de men*

Corn que els alumnes de 2n B de l'escola Dr Joaquim Salarich van fer unes votacions, en Pol va aprofitar per fer també una votació amb els alumnes de la universitat on haguessin de dir si trobaven més interessant el farad Zoser, en Keprén o en Keops. Mireu aquestes gràfiques i responneu les preguntes.



Quin és el farad més votat a la classe de 2n B? kefren ✓ Quants vots té? 18 vots ✓

Quin és el farad més votat a la universitat de Vic? Zoser ✓ Quants vots té? 18 vots ✓

Quants alumnes de 2n B han fet les votacions? 29 ✓

Quants alumnes de la universitat han fet les votacions? 28 alumnes ✓

Quines diferències veus en les votacions de la universitat i de 2n B? En can Keprén de 2n B té més vots que a l'universitat i també es troben més vots a l'universitat de Keops

Què faries per fer una votació a la teva classe per escollir un delegat? Aprofitant que o hem et delegat ✓

Quin és el farcò més votat a la classe de 2n B? *En K exten* Quants vots té? *te 19 vots*

Quin és el farcò més votat a la universitat de Vic? *En Fager* Quants vots té? *te 18 vots*

Quants alumnes de 2n B han fet les votacions? *28 alumnes*

Quants alumnes de la universitat han fet les votacions? *28 alumnes*

Quines diferències veus en les votacions de la universitat i de 2n B? *que el nombre de no tenen més votacions en K exten*

Què faries per fer una votació a la teva classe per escollir un delegat?

Quin és el farcò més votat de la classe de 2n B? *E. K exten* Quants vots té? *te 19 vots*

Quin és el farcò més votat a la universitat de Vic? *En Fager* Quants vots té? *te 18 vots*

Quants alumnes de 2n B han fet les votacions? *28 alumnes*


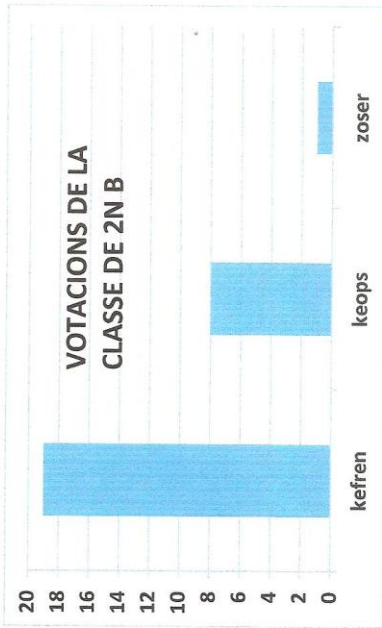
Quants alumnes de la universitat han fet les votacions? *29 alumnes*

Quines diferències veus en les votacions de la universitat i de 2n B? *En K exten te més vots*

Què faries per fer una votació a la teva classe per escollir un delegat? *preguntar a una gran part de*

crença meua

Com que els alumnes de 2n B de l'escola Dr. Joaquim Salarich van fer unes votacions, en Pol va aprofitar per fer també una votació amb els alumnes de la universitat on haguessin de dir si trobaven més interessant el faràs Zoser, en Kefern o en Keops. Mineu aquestes gràfiques i responeu les preguntes.



- Quin és el faró més votat a la classe de 2n B? ... en Ke Fern ✓ Quants vots té? ... 18 ✓
- Quin és el faró més votat a la universitat de Vic? ... en Zoser ✓ Quants vots té? ... 18 ✓
- Quants alumnes de 2n B han fet les votacions? ... 28 memòria de la classe de 2n B ✓
- Quants alumnes de la universitat han fet les votacions? ... 28 ✓
- Quines diferències veus en les votacions de la universitat i de 2n B? ... que en kefern te més vots ✓
- Què faries per fer una votació a la teva classe per escollir un delegat? ... propaganda, una reunió, per ... escollir un delegat ✓

Quin és el farad més votat a la classe de 2n B? *Kofman* Quants vots té? *19 vots*

Quin és el farad més votat a la universitat de Vic? *Z. Sereu* Quants vots té? *18 vots*

Quants alumnes de 2n B han fet les votacions? *28 votants*

Quants alumnes de la universitat han fet les votacions? *29 votants*

Quines diferències veus en les votacions de la universitat i de 2n B? *que a la universitat s'afegien els delegats*

Què faries per fer una votació a la teva classe per escollir un delegat? *afegir una taula de delegats per*

Quin és el farad més votat de la classe de 2n B? *K.E.F.R.A.N.* Quants vots té? *19 vots*

Quin és el farad més votat a la universitat de Vic? *Z.A.M.A.* Quants vots té? *18 vots*

Quants alumnes de 2n B han fet les votacions? *29 alumnes*


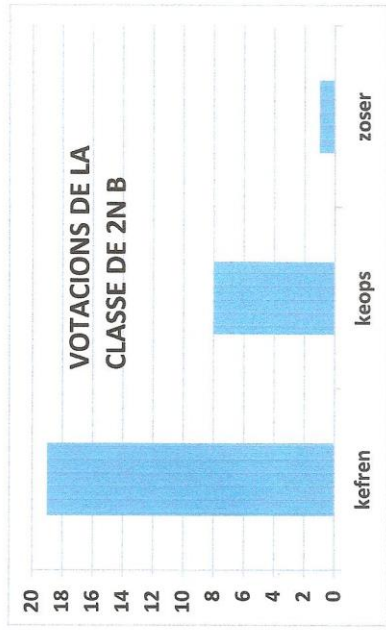
Quants alumnes de la universitat han fet les votacions? *29 alumnes*

Quines diferències veus en les votacions de la universitat i de 2n B? *que a la universitat s'afegien els delegats*

Què faries per fer una votació a la teva classe per escollir un delegat? *afegir una taula de delegats*

31-1-2017

Com que els alumnes de 2n B de l'escola Dr Joaquim Salanich van fer unes votacions, en Pol va aprofitar per fer també una votació amb els alumnes de la universitat on haquesim de dir si trobaven més interessant el faràs Zoser, en Kefren o en Keops. Mineu aquestes gràfiques i responeu les preguntes.



Quin és el farà més votat a la classe de 2n B? Kefren..... Quants vots té? 18

Quin és el farà més votat a la universitat de Vic? Zoser..... Quants vots té? 18

Quants alumnes de 2n B han fet les votacions? 28 alumnes de la classe de 2n B

Quants alumnes de la universitat han fet les votacions? 24 alumnes de la classe de la universitat

Quines diferències veus en les votacions de la universitat i de 2n B? La classe de la universitat

Què faries per fer una votació a la teva classe per escollir un delegat?

Quin és el faró més votat a la classe de 2n B? *Kefren*..... Quants vots té? *19 vots*.....
Quin és el faró més votat a la universitat de Vic? *Zosar*..... Quants vots té? *18 vots*.....
Quants alumnes de 2n B han fet les votacions? *28 votacions*.....
Quants alumnes de la universitat han fet les votacions? *29 votacions*.....
Quines diferències veus en les votacions de la universitat i de 2n B? *En Kefren te més votacions ca en Zosar*.....
Què faries per fer una votació a la teva classe per escollir un delegat? *ca prapriem una xarxis mens*.....

Quin és el faró més votat de la classe de 2n B? *Kefren*..... Quants vots té? *19 vots*.....
Quin és el faró més votat a la universitat de Vic? *Zosar*..... Quants vots té? *18 vots*.....
Quants alumnes de 2n B han fet les votacions? *29 Alumnes*.....
Quants alumnes de la universitat han fet les votacions? *29 Alumnes*.....
Quines diferències veus en les votacions de la universitat i de 2n B? *En Kefren te més votacions*.....
Què faries per fer una votació a la teva classe per escollir un delegat? *ca prapriem una xarxis mens*.....

Quina forma té la base de la piràmide? pentàgon ✓ Per què? perquè té 5
costats.

De quin tipus de triangle són les cares de la piràmide? isòsceles ✓ Per què? perquè
tenen 2 costats iguals i 1 diferent.

Quina forma té la base de la piràmide? pentàgon Per què? té 5 costats.

De quin tipus de triangle són les cares de la piràmide? isòsceles Per què? perquè
tenen 2 costats iguals i 1 diferent.

Quina forma té la base de la piràmide? pentàgon Per què? perquè té 5 costats.

De quin tipus de triangle són les cares de la piràmide? isòsceles Per què? perquè
tenen 2 costats iguals i 1 diferent.

2nB

2nB

Quina forma té la base de la piràmide? **PENTÀGON** ✓ Per què? *Se'n sembla molt amb pentàgons*

De quin tipus de triangle són les cares de la piràmide? **ISO SOELS** ✓ Per què? *també se'n sembla*

Quina forma té la base de la piràmide? **PENTÀGON** Per què? *te 5 costats*

De quin tipus de triangle són les cares de la piràmide? **PENTÀGON** Per què? *te 5 costats*

Quina forma té la base de la piràmide? **PENTÀGON** Per què? *te 5 costats*

De quin tipus de triangle són les cares de la piràmide? **ISÒSCELE** Per què? *te 2 costats iguals i un diferent*

21/5

Quina forma té la base de la piràmide? Pentagon ✓ Per què? Es sembla molt al pentagon.....

De quin tipus de triangle són les cares de la piràmide? Isosceles ✓ Per què? també sembl.....

Quina forma té la base de la piràmide? pentagon..... Per què? te 5 costats.....

De quin tipus de triangle són les cares de la piràmide? Pentagon..... Per què? te 5 costats.....

Quina forma té la base de la piràmide? pentagon..... Per què? te 5 costats.....

De quin tipus de triangle són les cares de la piràmide? ISOSCELES..... Per què? te 2 costats.....
iguals i un diferent.....



2nb

Quina forma té la base de la piràmide? PENTÀGON ✓ Per què? perquè el pentàgon té cinc costats.

De quin tipus de triangle són les cares de la piràmide? ISÒSCELES ✓ Per què? perquè el isòsceles té dos costats iguals i un diferent.

Quina forma té la base de la piràmide? PENTÀGON Per què? perquè el pentàgon té cinc costats.

De quin tipus de triangle són les cares de la piràmide? ISÒSCELES Per què? perquè té dos costats iguals i un diferent.

Quina forma té la base de la piràmide? PENTÀGON Per què? perquè té cinc costats.

De quin tipus de triangle són les cares de la piràmide? ISÒSCELES Per què? perquè té dos costats iguals i un diferent.